

Sprawdzian wiadomości z zakresu edukacji polonistycznej

w klasie III – grudzień

.....
 imię i nazwisko

1. W podanych zdaniach podkreśl jedną kreską czasowniki w liczbie pojedynczej, dwiema kreskami czasowniki w liczbie mnogiej.

4p.

Dzieci cichutko podeszły do pięknie ubranej choinki. Leżały pod nią kolorowe paczki. Pani zapaliła lampki. Monika zaczęła śpiewać kolędę, której wszyscy nauczyli się na lekcji muzyki. Janek grał na flecie, Ola i Zuzia przygrywały na dzwoneczkach. Panowała świąteczna atmosfera.

2. Podane wyrazy napisz w odpowiednim miejscu tabeli. W każdym wierszu tabeli dopisz jeden nowy wyraz.

5p.

zimowy, prezenty, szósty, ubierają, pięknie

Rzeczownik	_____ _____ _____ _____
Czasownik	_____ _____ _____ _____
Przymiotnik	_____ _____ _____ _____
Przysłówek	_____ _____ _____ _____
Liczebnik	_____ _____ _____ _____

3. Uzupełnij tabelę czasownikami w odpowiedniej formie.

8p.

<i>Czasowniki w czasie</i>		
teraźniejszym	przeszłym	przyszłym
czyta	_____	_____
	_____	_____
	_____	_____
	_____	_____
_____	słuchały	_____
_____		_____
_____		_____
_____		będzie malował
_____		_____
_____		_____
_____		_____
idą	_____	_____
	_____	_____
	_____	_____
	_____	_____

4. Uzasadnij pisownię ó, rz i ż w podanych wyrazach.

6p.

mróz	bo	_____	pieniązek	bo	_____
		_____			_____
		_____			_____
uważna	bo	_____	łodyżka	bo	_____
		_____			_____
		_____			_____
Ziółko	bo	_____	poważny	bo	_____
		_____			_____
		_____			_____

dróżka	bo	_____	przyjaciółka		_____
		_____			_____
		_____			_____
sól	bo	_____	wrócić	bo	_____
		_____			_____
		_____			_____
którzy	bo	_____	srebrzysty	bo	_____
		_____			_____
		_____			_____

Ogólna liczba punktów

23p.

Ocena nauczyciela:

.....
imię i nazwisko

Przeczytaj uważnie tekst.

W kącie pokoju stoi wysoka aż pod sufit choinka. Jest gęsta i rozłożysta. Zielony świerk umocowany jest w metalowym stojaku. Wykonano go ze sztucznego tworzywa. Ma długie gałązki, na których wiszą piękne bombki. Niektóre są jednokolorowe – złote, niebieskie i czerwone, inne malowane w przepiękne wzory. Wiszą też barwne figurki – grzybki, ptaszki i aniołki. Srebrno-biała gwiazda zdobi czubek drzewka. Kolorowe światełka pięknie ozdabiają choinkę, dodając jej wiele uroku. Na gałązkach mienią się delikatne pasma włosów anielskich. Pod choinką leżą duże i małe pudełka przewiązane zielonymi i żółtymi wstążeczkami. Mama przygotowuje smaczną kolację. Choinka jest cudowna i stanowi piękną dekorację świąteczną. Szkoda tylko, że jest sztuczna, bo wszyscy lubią zapach prawdziwej choinki.

6p.

1. Ułóż i napisz odpowiedzi na pytania.

- **Jakie ozdoby choinkowe wymienione są w tekście?**

- **W jakich kolorach są te ozdoby?**

- **Jakie inne ozdoby wieszasz na swojej choince w domu?**

2. Skreśl zdanie, które nie pasuje do treści tekstu.

1p.

3. Podkreśl w tekście zdanie odpowiadające na pytanie: *Co mieni się na gałązkach?*

1p.

4. Do wybranych rzeczowników dopisz przymiotniki z tekstu.

3p.

choinka	(jaka?)	_____	stojak	(jaki?)	_____
		_____			_____
		_____			_____
świąteczka	(jakie?)	_____	pudełka	(jakie?)	_____
		_____			_____
		_____			_____
dekoracja	(jaka?)	_____	gwiazda	(jaka?)	_____
		_____			_____
		_____			_____

5. W dziewiątym zdaniu podkreśl niebieską kredką przysłówek i ułóż z nim nowe zdanie.

3p.

6. Podkreśl zdania pochodzące z tekstu.

2p.

Choinka jest cudowna i stanowi piękną jesienną dekorację .

Choinka jest cudowna i stanowi piękną dekorację świąteczną.

Ma krótkie gałązki, na których wiszą piękne bombki.

Ma długie gałązki, na których wiszą piękne bombki.

16p.

Ogólna liczba punktów

Ocena nauczyciela:

.....
 imię i nazwisko

1. Narysuj linię prostą, łamaną i krzywą.

linia prosta



linia łamana

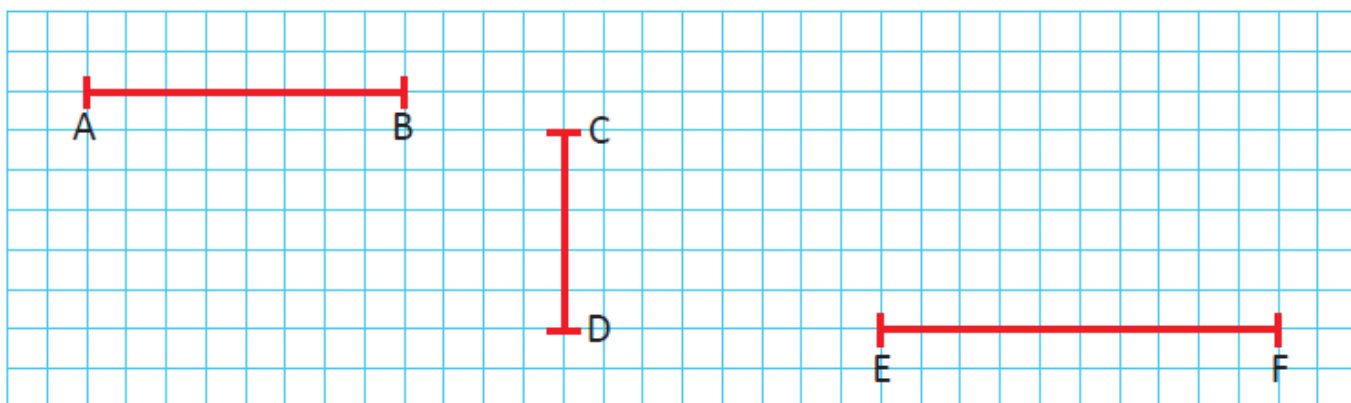


linia krzywa

3p.

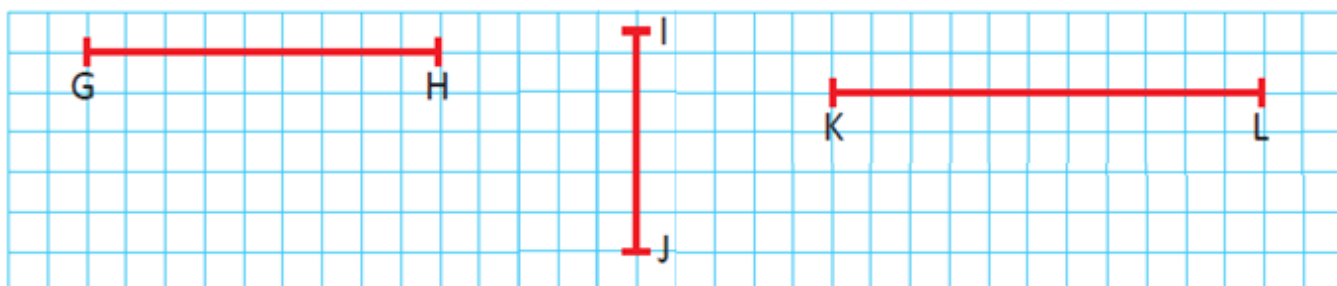
3p.

2. Do każdego z odcinków dorysuj odcinki równoległe. Podpisz je.



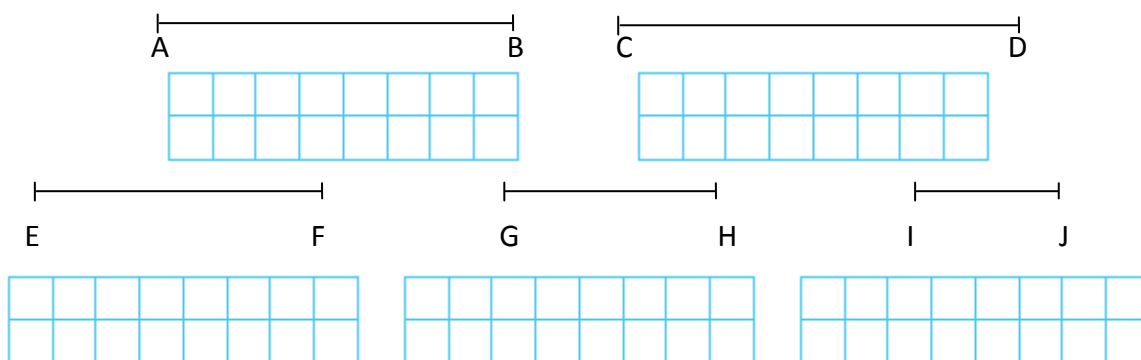
3. Do każdego z odcinków dorysuj odcinki prostopadłe. Podpisz je.

3p.



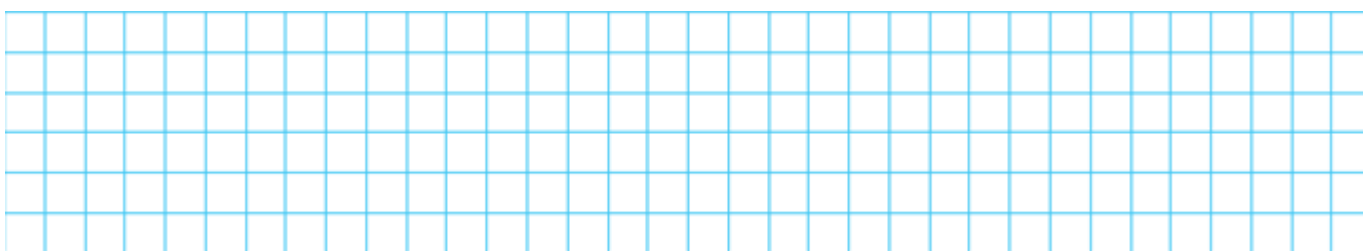

4. Zmierz długość odcinków i zapisz wyniki pomiarów. Najdłuższy odcinek zaznacz na czerwono, a najkrótszy na zielono.

5p.



5. Oto ozdoby choinkowe kupione przez Olę. Ułóż zadanie do ilustracji tak, aby rozwiązaniem był iloczyn liczb.

5p.



Odp.:

6. Oblicz.

6p.

$28 : 4 =$

$18 : 3 =$

$3 \cdot 8 =$

$30 : 5 =$

$3 \cdot 7 =$

$24 : 4 =$

Ogólna liczba punktów

25p.

Ocena nauczyciela:

**Sprawdzian wiadomości i umiejętności z edukacji społecznej
w klasie III - grudzień**

.....
imię i nazwisko

1. Znajdź na mapie Szwecję, Finlandię i Norwegię. Terytorium Szwecji pokoloruj na niebiesko, Finlandii na żółto, a Norwegii na zielono.

3p.



1. Podkreśl prawidłowe odpowiedzi.

- Ojczyzną Nagrody Nobla jest:

Szwecja Norwegia Finlandia

- Alfred Nobel zastynął:

pisaniem wierszy wynalezieniem szczepionki wynalezieniem dynamitu

- Z Polski do Szwecji można dotrzeć:

samochodem promem rowerem

- Znaną szwedzką pisarką, autorką książki *Dzieci z Bullerbyn* jest:

Wanda Chotomska Lewis Carroll Astrid Lindgren

4p.

2. Wymień nazwiska trzech wybranych przez siebie polskich noblistów.

3p.





a) _____

b) _____

c) _____

3. Dopasuj datę do odpowiedniego święta grudniowego.

4p.

			
Boże Narodzenie	Wigilia	mikołajki	ostatni dzień roku

4. Spośród podanych nazw tradycji i zwyczajów zamaluj te, które są związane z Bożym Narodzeniem.

5p.

pasterka	śmigus – dyngus
malowanie pisanek	wielkanocne śniadanie
ubieranie choinki	dzielenie się opłatkiem
topienie Marzanny	wkładanie sianka pod obrus
śpiewanie kolęd	lanie wosku

Ogólna liczba punktów

19p.

Ocena nauczyciela: